

Pruebas de Acceso a Estudios de Grado- P.A.E.G.

Materia: **Geografía**

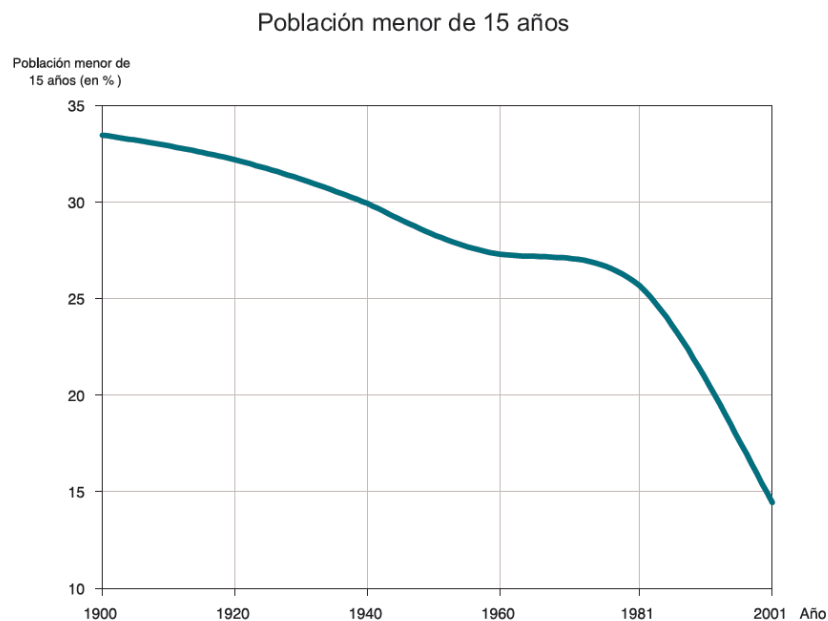
Este examen consta de dos opciones, opción A y B. El alumno deberá contestar **sólo a una de ellas**. Como criterio general de corrección para el conjunto de la prueba se valorará la presentación, la ortografía y la redacción.

OPCIÓN A:

I. PRÁCTICA (Puntuación: 3 puntos)

Atendiendo al gráfico siguiente, responda a las siguientes preguntas:

- 1.- Evolución de la población menor de 15 años en España.
- 2.- Factores que influyen en la evolución de la población menor de 15 años.
- 3.- Consecuencias derivadas.



II. TEMA (Puntuación: 3 puntos)

Desarrolle el siguiente tema:

- Variedad litológica: dominio silíceo, calizo, arcilloso y volcánico.
-

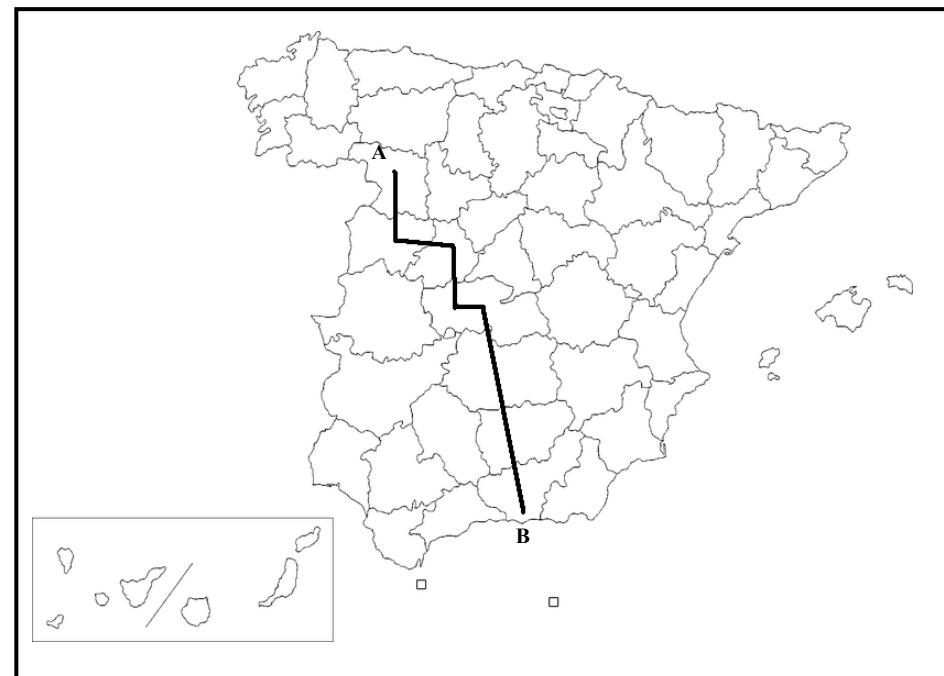
III. CONCEPTOS (Puntuación: 2 puntos)

Defina con la mayor precisión posible, y de forma breve, estos **cuatro** conceptos e indique, siempre y cuando sea posible, un ejemplo relativo a España o a Castilla-La Mancha:

- Latitud; Efecto Foehn; Área metropolitana; Barbecho.
-

IV. LOCALIZACIÓN (Puntuación: 2 puntos)

Cite las cordilleras, ríos y provincias que atraviesa la línea desde “A” hasta “B”.



Pruebas de Acceso a Estudios de Grado- P.A.E.G.

Materia: **Geografía**

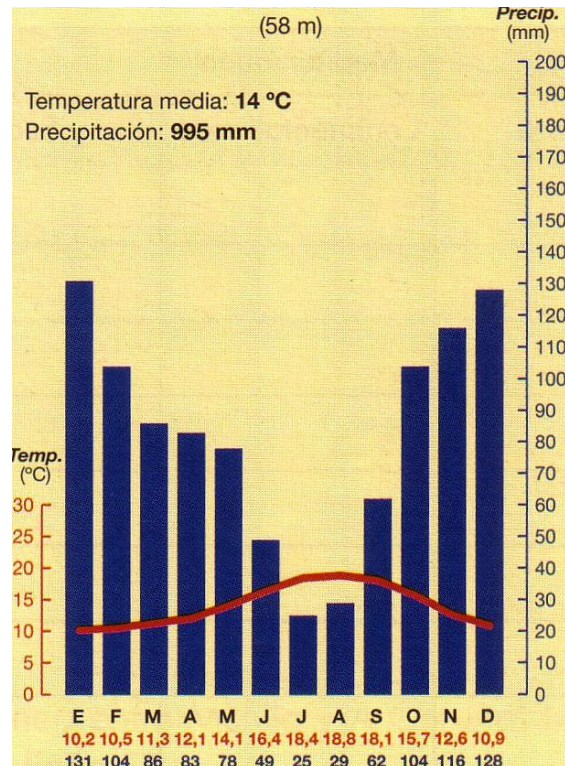
Este examen consta de dos opciones, opción A y B. El alumno deberá contestar **sólo a una de ellas**. Como criterio general de corrección para el conjunto de la prueba se valorará la presentación, ortografía y redacción

OPCIÓN B:

I. PRÁCTICA (Puntuación: 3 puntos)

Comente el siguiente climograma y conteste a las siguientes cuestiones:

- 1.- Evolución de las temperaturas y de las precipitaciones a lo largo del año.
- 2.- Tipo de clima al que pertenece. ¿A qué ciudad o zona cree que corresponde?
- 3.- Mencione qué situaciones de la dinámica general de la atmósfera pueden afectar a esta zona.



II. TEMA (Puntuación: 3 puntos)

Desarrolle el siguiente tema:

- Los espacios turísticos. Importancia del turismo. Características: la oferta turística, tipos de turismo, áreas turísticas, la demanda turística. Problemas del turismo. Nuevos tipos de turismo.

III. CONCEPTOS (Puntuación: 2 puntos)

Defina con la mayor precisión posible, y de forma breve, estos **cuatro** conceptos e indique, siempre y cuando sea posible, un ejemplo relativo a España o a Castilla-La Mancha:

Maquia y Garriga; Tasa de fecundidad; Suburbio; Comunidad Autónoma.

IV. LOCALIZACIÓN (Puntuación: 2 puntos)

Cite las cordilleras, ríos y provincias que atraviesa la línea desde "A" hasta "B".

